

بسمه تعالی

زمان پاسخگویی: ۶۰ دقیقه

پایه هفتم، نوبت اول

نام درس: مطالعات

تاریخ آزمون: ۱۳۰۱/۱۰/۱

نام دبیرستان:


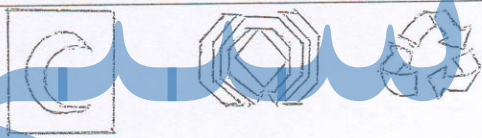
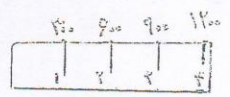
تعداد صفحات: ۳


ساعت شروع:

نام کلاس:

نام و نام خانوادگی:

بارم	سؤالات	ردیف
۲	جاهای خالی را با کلمات مناسب پر کنید. الف) ایران در قاره آسیا واقع است. ب) همه انسان‌ها حق دارند که مهمترین آنهاست. ج) مهمترین قانون هر کشور آن است. د) نواحی پست و هموار ایران شامل و است. ه) با استفاده از می‌توانید فاصله واقعی مکان‌ها روی زمین را محاسبه کنید. و) فعالیتی که بین تولید کننده و مصرف کننده رابطه برقرار می‌کند است. ز) انسان‌ها می‌توانند فقط در حدی که از طبیعت بهره برداری کنند.	۱
۱	پاسخ صحیح یا غلط بدهید؟ الف) کوه‌های آذربایجان در شمال غربی ایران قرار گرفته‌اند. <input type="checkbox"/> ص <input type="checkbox"/> غ ب) تاحیه ساحلی جنوب ایران جزء نواحی سرد است. <input type="checkbox"/> ص <input type="checkbox"/> غ ج) در گذشته دور با رونق کشاورزی تولید محصول زیاد شد. <input type="checkbox"/> ص <input type="checkbox"/> غ د) همیاری یعنی خود را جای فرد حادثه دیده بگذاریم. <input type="checkbox"/> ص <input type="checkbox"/> غ	۲
۱	قانون و مقررات به چند دلیل به وجود آمده است و چه تأثیری در جامعه دارد؟	۳
۱	شورای نگهبان چند عضو دارد و چگونه انتخاب می‌شوند؟	۴
۱	ویژگی‌های مصرف‌گرایی را بیان کنید؟	۵
۱	کالاها باید چه ویژگی‌هایی داشته باشند تا اجازه چاپ علامت مخصوص استاندارد را دریافت کنند؟	۶

۷	دو مورد از دلایل تخریب زیستگاه را نام ببرید؟
۸	نقشه چیست دو نوع نقشه نام ببرید؟
۹	دامنه‌های شمال و جنوبی البرز را با هم مقایسه کنید؟
۱۰	دو مورد از ویژگی‌های ناحیه گرم و شرجی سواحل جنوب را نام ببرید؟
۱۱	کدام مورد از گزینه‌های زیر حق و کدام یک مسئولیت است؟ الف) همکاری با پدر و مادر : ب) زندگی در محیطی سالم و پاک:  ج) احترام به معلم و دوستان
۱۲	علامت‌های زیر را نامگذاری کنید؟ 
۱۳	فاصله میدان امام شهر ایلام تا میدان امام حسین (ع) روی نقشه ۴ سانتی متر است با توجه به مقیاس خطی زیر فاصله واقعی آنها چقدر است؟ 
۱۴	چرا کشور به بخش‌های مختلف تقسیم شده است و چگونه اداره می‌شوند توضیح دهید؟
۱۵	یک نوع بیمه اجباری و یک نوع بیمه اختیاری را نام ببرید؟ (۱) اجباری (۲) اختیاری
۱۶	کدام یک از عوامل تولید نقش مهمتری در تولید کالا دارد؟ چرا؟
۱۷	دو مورد از کارهایی که شما می‌توانید در حفظ محیط زیست انجام دهید را نام ببرید؟

	<p>چگونه مناسب را انتخاب کنید؟</p> <p>الف) کدام قانون مذهبی است؟</p> <p>۱- با کفش وارد نمازخانه نشویم ۲- به دیگران احترام بگذاریم ۳- نوبت را رعایت کنیم.</p> <p>ب) مرطوب‌ترین ناحیه آب و هوایی ایران کدام است؟</p>	
۱	<p>۱- کوهستانی ۲- ساحلی جنوب ۳- خزری</p> <p>ج) کدام مؤسسه برای جبران زیان‌های مالی به وجود آمده است؟</p> <p>۱- شهرداری ۲- بیمه ۳- هلال احمر</p> <p>ه) کدام یک جزء طبقه‌بندی مشاغل به حساب نمی‌آید؟</p> <p>۱- کشاورزی ۲- دامپروری ۳- صنعت ۴- خدمات</p>	
۱	<p>با توجه به نقشه پاسخ دهید؟</p> <p>الف) رشته کوه؟</p> <p>ب) جلگه؟</p> <p>ج) دریاچه؟</p> <p>د) کوه آتشفشان؟</p> 	۱۹

موفق باشید